



AFOR Umbria

Agenzia Forestale Regionale

**Bando di concorso pubblico per titoli ed esami
per la copertura di complessivi n. 18 posti
Cat. C posizione economica C1
a tempo pieno e indeterminato
di profili tecnici e amministrativi da impiegare
presso l'Agencia Forestale Regionale dell'Umbria**

**Istruttore amministrativo Cat. C
del CCNL Funzioni Locali**

Prova 04

- 1 In base alla legge 18/2011 della Regione Umbria, sull'operato dell'Agenzia forestale regionale la Giunta regionale svolge funzioni:
- A** di indirizzo
 - B** di coordinamento
 - C** di attivazione

- 2 In base alla legge 18/2011 della Regione Umbria, l'utilizzazione temporanea del personale dell'Agenzia forestale regionale è consentita da parte:
- A** dei Comuni del territorio regionale
 - B** degli Enti pubblici economici
 - C** dello Stato

- 3 In base alla legge 18/2011 della Regione Umbria, quale dei seguenti è un compito dell'Agenzia forestale regionale, per il quale non si richiedono deleghe e preventivi accordi o protocolli?
- A** Interventi di prevenzione e lotta attiva contro le avversità del bosco
 - B** Valorizzazione delle biomasse agricole e forestali
 - C** Supporto tecnico e operativo in materia di protezione civile

- 4 In base al Regolamento di organizzazione e funzionamento dell'Afor Umbria, l'Agenzia è organizzata in Servizi. NON è uno di essi:
- A** Servizio sicurezza
 - B** Servizio amministrativo
 - C** Servizio bilancio-personale

- 5 Ai sensi del d.lgs. 50/2016, quando un'offerta appaia anormalmente bassa, gli operatori economici che l'hanno proposta:
- A** forniscono, su richiesta della stazione appaltante, spiegazioni sul prezzo o sui costi proposti
 - B** non forniscono mai spiegazioni sul prezzo o sui costi proposti, nemmeno su richiesta della stazione appaltante
 - C** vengono automaticamente esclusi dalla stazione appaltante

- 6 Che cosa si intende per avvalimento, ai sensi del Codice Appalti?
- A** La possibilità, per l'operatore economico, di soddisfare la richiesta relativa al possesso dei requisiti di carattere economico, finanziario, tecnico e professionale, avvalendosi delle capacità di altri soggetti
 - B** La possibilità, per l'operatore economico, di avvalersi di una polizza assicurativa o di una fidejussione bancaria a titolo di garanzia per la presentazione dell'offerta
 - C** La possibilità, per l'operatore economico, di avvalersi dei requisiti di moralità di un altro soggetto economico

-
- 7 **È consentito l'affidamento diretto di una fornitura di un bene o di un servizio?** GD0007
- A** Sì, ma solo nelle fattispecie consentite dal Codice dei contratti pubblici
 - B** No, mai
 - C** Sì, è sempre consentito qualora il responsabile del procedimento lo ritenga motivatamente conveniente
-
- 8 **Ai sensi del d.lgs. 50/2016, quale tra le seguenti alternative NON è una fase delle procedure di affidamento?** GD0008
- A** Pagamento del prezzo
 - B** Determina a contrarre
 - C** Aggiudicazione
-
- 9 **Ai sensi dell'art. 3 del d.lgs. 50/2016 e s.m.i., che cosa sono gli "appalti pubblici"?** GD0009
- A** Contratti a titolo oneroso, stipulati per iscritto tra una o più stazioni appaltanti e uno o più operatori economici, aventi per oggetto l'esecuzione di lavori, la fornitura di prodotti e la prestazione di servizi
 - B** Contratti a titolo oneroso o gratuito, stipulati per iscritto tra una stazione appaltante e un operatore economico, aventi per oggetto l'esecuzione di lavori, la fornitura di prodotti e la prestazione di servizi
 - C** Contratti a titolo oneroso, stipulati per iscritto, con i quali una o più stazioni appaltanti conferiscono a uno o più operatori economici un complesso di attività consistenti nella realizzazione, trasformazione, manutenzione e gestione operativa di un'opera in cambio della sua disponibilità o della fornitura di un servizio connessa all'utilizzo dell'opera stessa
-
- 10 **In base all'art. 23 del d.lgs. 50/2016, quali sono i livelli in cui si articola la progettazione in materia di lavori pubblici?** GD0010
- A** Progetto di fattibilità tecnica ed economica, progetto definitivo e progetto esecutivo
 - B** Progetto di fattibilità tecnica ed economica e dettagli costruttivi
 - C** Progetto di fattibilità tecnica ed economica e progetto preliminare
-
- 11 **Una delle modalità di scelta del contraente cui ricorre la P.A. è la procedura:** GD0011
- A** ristretta
 - B** concordata
 - C** diretta
-
- 12 **Il procedimento di formazione di un contratto ad evidenza pubblica si avvia con:** GD0012
- A** la deliberazione a contrarre
 - B** l'aggiudicazione
 - C** l'inizio dei lavori

- 13 L'articolo 1 del d.P.R. 445/2000 definisce il documento, rilasciato da un'Amministrazione Pubblica, avente funzione di ricognizione di stati contenuti in registri pubblici, come:
- A** certificato
 - B** documento di riconoscimento
 - C** documento informatico

- 14 In base alla legge 241/1990, il diritto di accesso ai documenti amministrativi è escluso:
- A** nei confronti dell'attività della Pubblica Amministrazione diretta all'emanazione di atti normativi, amministrativi generali, di pianificazione e di programmazione, per i quali restano ferme le particolari norme che ne regolano la formazione
 - B** solo nei casi di necessità e urgenza
 - C** solo nei procedimenti a istanza di parte

- 15 Secondo la legge 241/1990, il provvedimento amministrativo, quando è viziato da eccesso di potere o incompetenza, è:
- A** annullabile
 - B** nullo
 - C** revocabile

- 16 La motivazione del provvedimento amministrativo, ai sensi della legge 241/1990, deve indicare:
- A** i presupposti di fatto e le ragioni giuridiche che hanno determinato la decisione dell'Amministrazione, in relazione alle risultanze dell'istruttoria
 - B** esclusivamente i fini pubblici perseguiti dal provvedimento
 - C** esclusivamente le ragioni giuridiche che hanno determinato la decisione

- 17 Secondo la legge 241/1990, nella comunicazione di avvio del procedimento amministrativo si deve indicare:
- A** l'ufficio in cui si può prendere visione degli atti
 - B** la documentazione prodotta dalla Pubblica Amministrazione precedente
 - C** la data entro la quale presumibilmente avrà inizio il procedimento

- 18 Ai fini del GDPR, per "dati biometrici" si intende:
- A** i dati personali ottenuti da un trattamento tecnico specifico relativi alle caratteristiche fisiche, fisiologiche o comportamentali di una persona fisica che ne consentono o confermano l'identificazione univoca, quali l'immagine facciale o i dati dattiloscopici
 - B** i dati personali attinenti alla salute fisica o mentale di una persona fisica
 - C** i dati personali attinenti al nome e cognome

-
- 19 GD0019
Ai sensi della legge 241/1990, il responsabile del procedimento:
- A** adotta, ove ne abbia la competenza, il provvedimento finale, ovvero trasmette gli atti all'organo competente per l'adozione
 - B** non può mai esperire ispezioni
 - C** non è mai competente in materia di adozione del provvedimento finale
-
- 20 GD0020
Ai sensi del d.lgs. 33/2013, il responsabile per la trasparenza svolge stabilmente un'attività di controllo sull'adempimento da parte dell'Amministrazione degli obblighi:
- A** di pubblicazione previsti dalla normativa vigente
 - B** descritti nel solo decreto legislativo 196/2003
 - C** descritti nel solo decreto legislativo 50/2016
-
- 21 GD0021
In base al d.lgs. 39/2013, a coloro che abbiano svolto in proprio attività professionali finanziate da un'Amministrazione regionale possono essere conferiti incarichi amministrativi di vertice nella stessa Amministrazione?
- A** No, per un biennio
 - B** Sì, è possibile
 - C** No, mai
-
- 22 GD0022
Con riferimento alla legge 241/1990, la Conferenza di servizi istruttoria viene convocata:
- A** per effettuare un esame contestuale dei vari interessi pubblici coinvolti in un procedimento amministrativo
 - B** prevalentemente per disporre ispezioni
 - C** quando la conclusione positiva del procedimento è subordinata all'acquisizione di più pareri resi da diverse Amministrazioni
-
- 23 GD0023
Ai sensi dell'articolo 5 del d.lgs. 33/2013:
- A** chiunque ha diritto di accedere ai dati e ai documenti detenuti dalle Pubbliche Amministrazioni, ulteriori rispetto a quelli oggetto di pubblicazione, nel rispetto dei limiti relativi alla tutela di interessi giuridicamente rilevanti
 - B** le Pubbliche Amministrazioni devono negare l'accesso ai dati e documenti non oggetto di obbligo di pubblicazione
 - C** chiunque ha diritto di accedere ai dati e ai documenti detenuti dalle Pubbliche Amministrazioni, ulteriori rispetto a quelli oggetto di pubblicazione, anche in assenza di interessi giuridicamente rilevanti
-
- 24 GD0024
Quale dei seguenti NON è indicato dal d.P.R. 445/2000 tra i soggetti legittimati all'autenticazione delle copie di documenti?
- A** Presidente del Consiglio di Amministrazione
 - B** Notaio
 - C** Cancelliere
-

25 In base alla legge 190/2012, la Commissione per la valutazione, la trasparenza e l'integrità delle Amministrazioni Pubbliche è tenuta a presentare una relazione sull'attività di contrasto della corruzione e dell'illegalità nella Pubblica Amministrazione:

- A** entro il 31 dicembre di ogni anno
- B** entro il 30 novembre di ogni anno
- C** ogni biennio

26 Ai sensi del d.lgs. 33/2013, il rilascio di dati o di documenti:

- A** in formato elettronico o cartaceo è gratuito, salvo il rimborso del costo effettivamente sostenuto e documentato all'Amministrazione per la riproduzione su supporti materiali
- B** in formato elettronico o cartaceo è obbligatoriamente a pagamento
- C** se in formato elettronico è gratuito, salvo il rimborso del costo effettivamente sostenuto e documentato all'Amministrazione per la riproduzione su supporti materiali

27 I soggetti, individuati o facilmente individuabili in base alla natura del documento richiesto, che dall'esercizio dell'accesso vedrebbero compromesso il loro diritto alla riservatezza, ai sensi dell'art. 22 della legge 241/1990, si definiscono:

- A** controinteressati
- B** interessati
- C** cointeressati

28 Che tipo di poteri esercita, secondo la legge 190/2012, l'Autorità nazionale anticorruzione?

- A** Ispettivi
- B** Impeditivi
- C** Negoziali

29 Ai sensi del GDPR, il trattamento dei dati personali è lecito previo:

- A** consenso al trattamento
- B** diniego al trattamento
- C** parere favorevole

30 Ai sensi della legge 190/2012, in quali settori della Pubblica Amministrazione è prevista di regola la rotazione dei dirigenti e dei funzionari?

- A** Nei settori particolarmente esposti alla corruzione
- B** Esclusivamente negli enti locali
- C** Esclusivamente nei settori delle amministrazioni centrali

- 31 I rapporti tra il cittadino e la Pubblica Amministrazione, ai sensi dell'art. 1, comma 2-bis, della legge 241/1990, sono improntati ai principi di:
- A** collaborazione e buona fede
 - B** liceità e trasparenza
 - C** economicità e imparzialità

- 32 A norma dell'articolo 1 del d.lgs. 39/2013, una situazione di "inconferibilità" è una preclusione a conferire determinati incarichi che può avere carattere:
- A** anche permanente
 - B** solo temporaneo
 - C** solo permanente

- 33 Ai sensi del d.lgs. 165/2001, un'Amministrazione Pubblica, prima di prendere provvedimenti disciplinari, deve contestare per iscritto l'addebito e sentire il dipendente a sua difesa. NON si segue questa procedura quando:
- A** la sanzione prevista è il rimprovero verbale
 - B** si tratta di un Ente pubblico, perché in tal caso la contestazione non è mai fatta per iscritto
 - C** la sanzione prevista è la censura

- 34 Secondo il d.lgs. 165/2001, in caso di gravi o reiterate violazioni del Codice di comportamento, quale sanzione disciplinare è prevista dalla legge?
- A** Il licenziamento
 - B** La multa
 - C** La sospensione dal servizio per dieci giorni

- 35 Ai sensi dell'articolo 4 del d.P.R. 62/2013, il dipendente della Pubblica Amministrazione:
- A** può accettare regali o altre utilità di modico valore effettuati occasionalmente nell'ambito delle normali relazioni di cortesia
 - B** può accettare regali o altre utilità di rilevante valore effettuati occasionalmente nell'ambito delle normali relazioni di cortesia
 - C** può accettare regali o altre utilità di modico valore effettuati regolarmente nell'ambito delle normali relazioni di cortesia

- 36 Ai sensi dell'art. 10 del d.P.R. 62/2013 (Codice di comportamento dei dipendenti pubblici):
- A** nei rapporti privati, il dipendente non sfrutta, né menziona la posizione che ricopre nell'Amministrazione per ottenere utilità che non gli spettino
 - B** nei rapporti privati il dipendente può sfruttare la posizione che ricopre nell'Amministrazione per ottenere utilità che non gli spettino
 - C** nei rapporti privati il dipendente può menzionare la posizione che ricopre nell'Amministrazione al fine di richiedere regali o altre utilità personali

- GD0037
- 37 **Ai sensi dell'art. 22 del CCNL comparto Funzioni Locali 2016-2018, ai sensi di quanto disposto dalle disposizioni legislative vigenti, l'orario di lavoro è articolato su:**
- A** cinque giorni, fatte salve le esigenze dei servizi da erogarsi con carattere di continuità, che richiedono orari continuativi o prestazioni per tutti i giorni della settimana o che presentino particolari esigenze di collegamento con le strutture di altri uffici pubblici
 - B** sei giorni, escluse le esigenze dei servizi da erogarsi con carattere di continuità, che richiedono orari continuativi o prestazioni per tutti i giorni della settimana o che presentino particolari esigenze di collegamento con le strutture di altri uffici pubblici
 - C** quattro giorni, fatte salve le esigenze di servizio così come comunicato dal datore di lavoro

- GD0038
- 38 **In base al d.P.R. 62/2013, il dipendente pubblico può far parte di organizzazioni?**
- A** Sì, ma se gli ambiti di interessi di queste possono interferire con lo svolgimento dell'attività dell'ufficio deve darne tempestiva comunicazione al responsabile dell'ufficio di appartenenza
 - B** Sì, senza alcuna limitazione al diritto di associazione costituzionalmente riconosciuto
 - C** Sì, purché non perseguano finalità politiche

- GD0039
- 39 **Secondo il d.lgs. 165/2001, qual è la forma contrattuale generale privilegiata per l'assunzione di dipendenti da parte delle Pubbliche Amministrazioni per le esigenze connesse con il proprio fabbisogno ordinario?**
- A** I contratti di lavoro subordinato a tempo indeterminato
 - B** Qualunque contratto di lavoro per qualsiasi tipo di incarico
 - C** Qualunque contratto di lavoro determinato, indeterminato o flessibile

- GD0040
- 40 **In base al CCNL Addetti lavori sistemazione idraulico forestale e idraulico-agraria, il lavoratore deve essere adibito alle mansioni:**
- A** relative alla qualifica di assunzione
 - B** relative alla qualifica di assunzione o superiori
 - C** relative alla qualifica di assunzione o inferiori

- GD0041
- 41 **Un gioco ha le seguenti regole: se un numero è divisibile per 7 vale 6 punti; se è divisibile per 3 vale 5 punti. In base a tali regole, quale dei seguenti numeri vale di più?**
- A** 42
 - B** 54
 - C** 47

- GD0042
- 42 **“Chi gioca a scacchi è una persona paziente; Alfredo gioca sia a scacchi sia a dama; chi gioca a dama ama l'opera lirica”. Se le precedenti affermazioni sono vere, quale delle seguenti NON è vera?**
- A** Chi gioca a scacchi può non essere una persona paziente
 - B** Alfredo ama l'opera lirica
 - C** Chi ama l'opera lirica può anche non essere una persona paziente

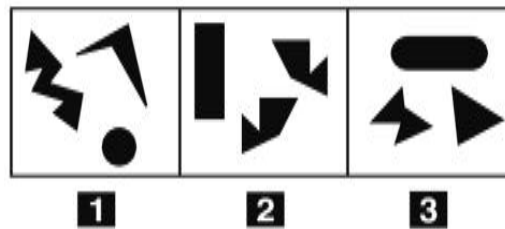
43 Se l'affermazione "tutti i giorni del mese di luglio sono caldi" è FALSA, allora necessariamente:

- A** almeno un giorno del mese di luglio non è caldo
- B** non esiste un giorno caldo in luglio
- C** in giugno le giornate sono più calde che in luglio

44 122 - 236 - - 464. Qual è il numero mancante?

- A** 350
- B** 120
- C** 292

FIGURA SX 54



45 Rispondere al seguente quesito facendo riferimento alla FIGURA SX 54
Individuare la figura da scartare.

- A** Figura 2
- B** Figura 3
- C** Figura 1

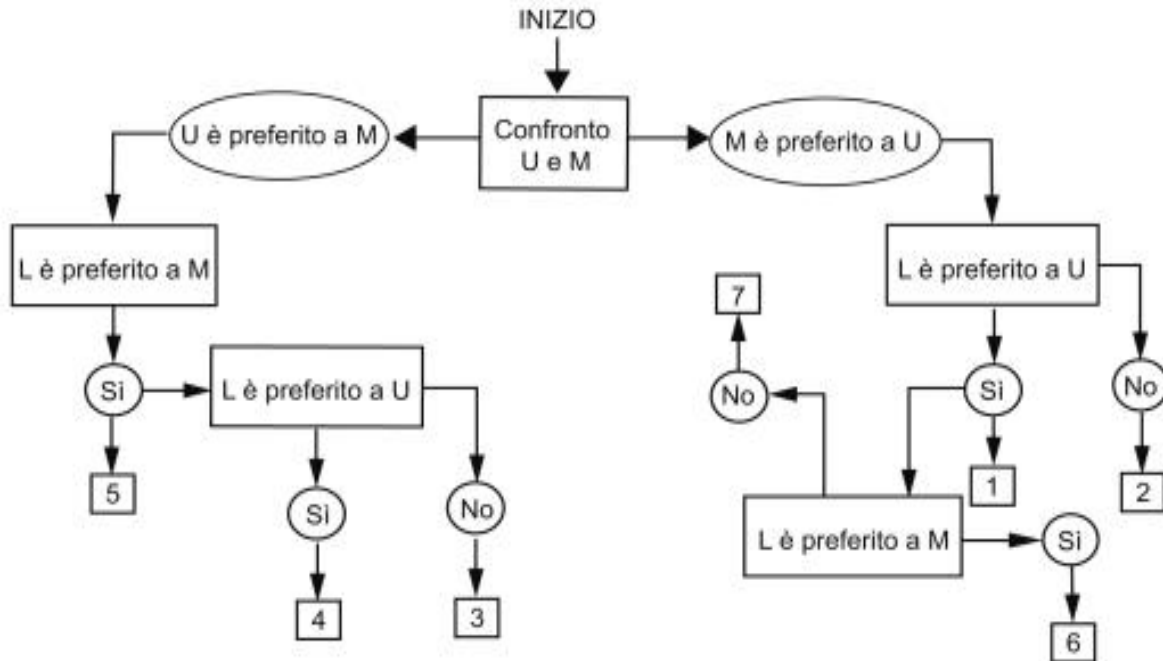
46 Indicare in quale delle seguenti alternative la lettera C è presente un numero maggiore di volte rispetto alla lettera G.

- A** CCGGCGCGCGCGCC
- B** GGCGCGGGCGCCG
- C** GCGGGCGCGGCC

DIAGRAMMA SZ 11

All'esame di Stato, Marco dovrà presentare una tesi che coinvolga tutte le materie di studio. Decide di iniziare il lavoro seguendo le sue preferenze. Il confronto avviene valutando a due a due tre discipline, giudicandone sempre una come preferita all'altra e mai due come ugualmente preferite. L'obiettivo quindi è stabilire un ordine di preferenza.

U = discipline umanistiche, M = discipline matematiche, L = discipline linguistiche.

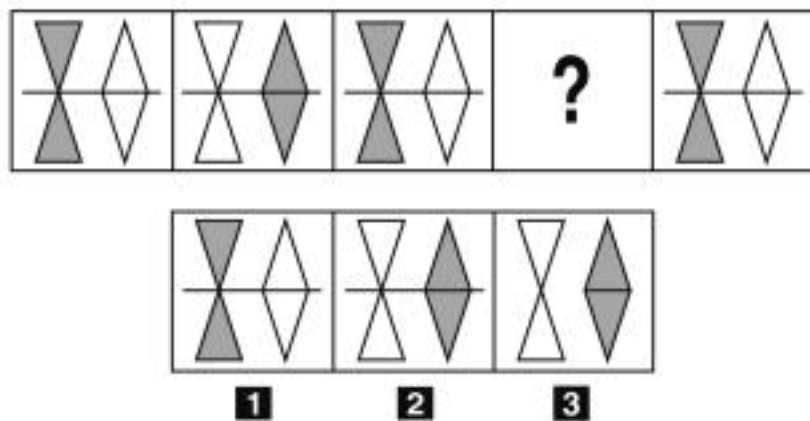


47 Rispondere al seguente quesito facendo riferimento al DIAGRAMMA SZ 11
Indicare l'ordine di preferenza risultante alla casella "4" del diagramma.

GD0047

- A** LUM
- B** È possibile più di un ordine
- C** LMU

FIGURA SX 05

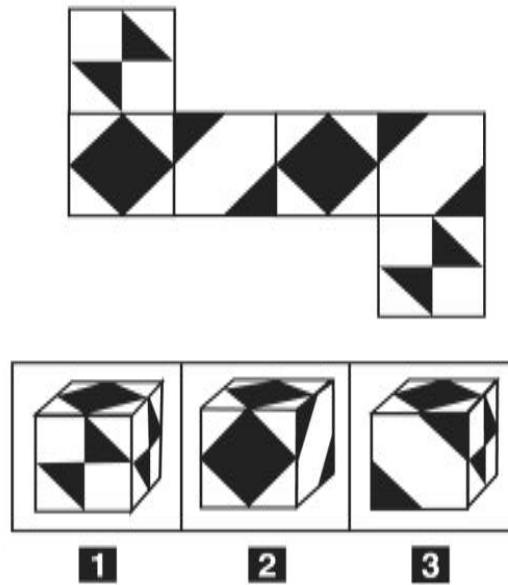


48 Rispondere al seguente quesito facendo riferimento alla FIGURA SX 05
Individuare l'alternativa che completa correttamente la serie.

GD0048

- A** Figura 2
- B** Figura 3
- C** Figura 1

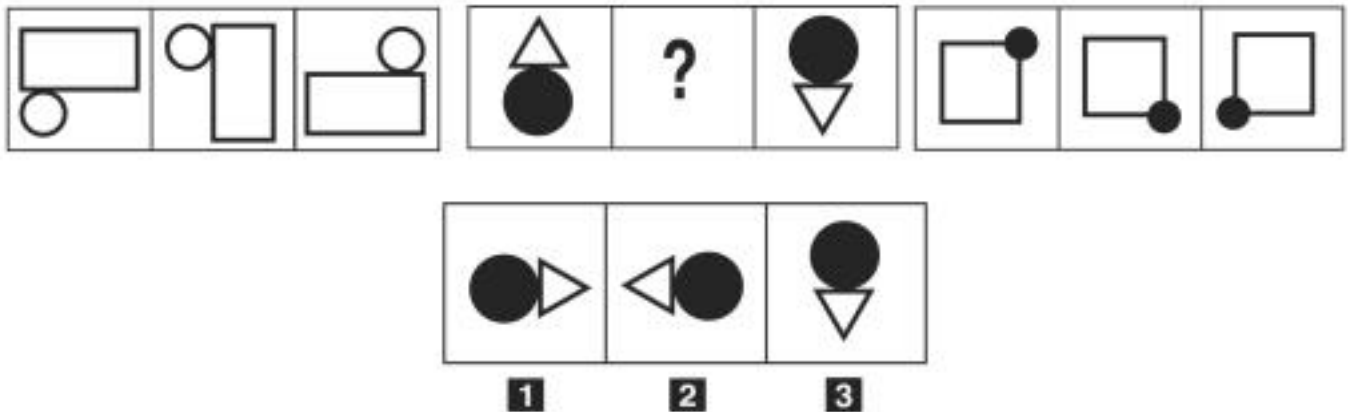
FIGURA SZ 13



- 49 Rispondere al seguente quesito facendo riferimento alla FIGURA SZ 13
 Quale delle tre figure corrisponde alla composizione volumetrica della figura piana?
A Figura 3
B Figura 1
C Figura 2

GD0049

FIGURA UR 79



- 50 Rispondere al seguente quesito facendo riferimento alla FIGURA UR 79
 Individuare la figura che completa la serie.
A Figura 1
B Figura 2
C Figura 3

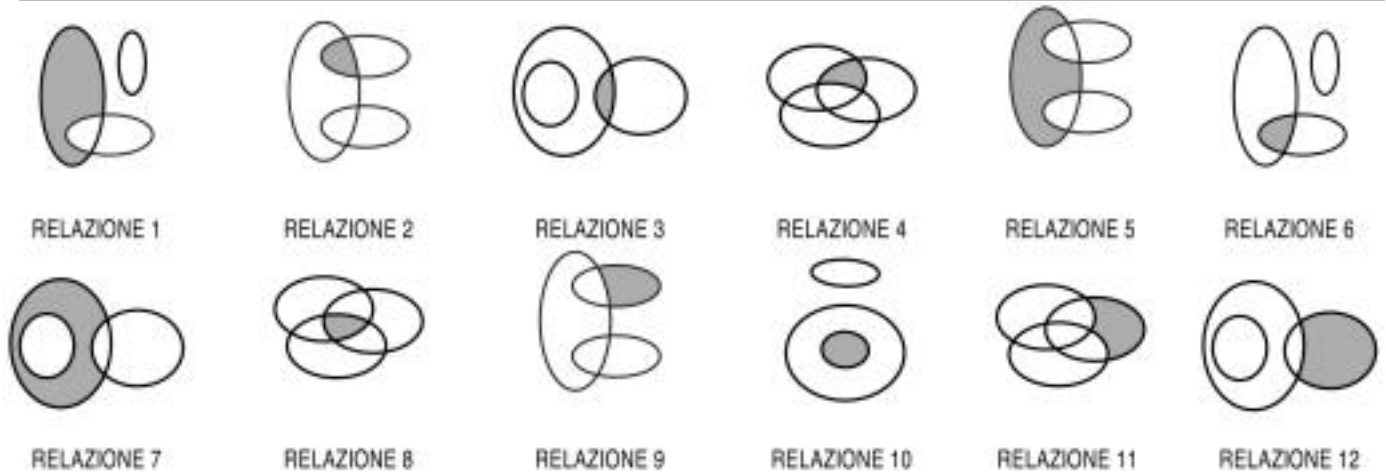
GD0050

- 51 Se Davide è più vecchio di Vincenzo e Alessandra è più vecchia di Davide, qual è la persona più vecchia?
A Alessandra
B Davide o Alessandra
C Vincenzo

GD0051

- 52 Quali, tra i termini proposti, completano correttamente la seguente proporzione verbale? Discreto : cauto = X : Y
- A** X = estroverso; Y = espansivo
 - B** X = continuo; Y = digitale
 - C** X = no; Y = forse

DIAGRAMMA RY 02



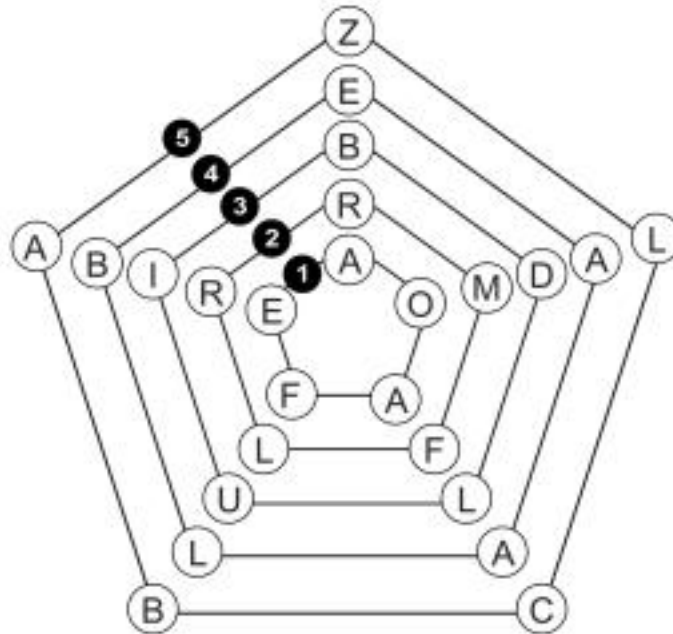
- 53 Rispondere al seguente quesito facendo riferimento al DIAGRAMMA RY 02
- I tre termini "Scrittori, Persone portoghesi, Libri" sono legati da una relazione insiemistica. All'interno di questa relazione, "José Saramago, scrittore portoghese" si trova nella parte annerita della:
- A** relazione 6
 - B** relazione 3
 - C** relazione 1

- 54 Se 4 panettieri preparano 24 pizze in 20 minuti, lavorando allo stesso ritmo quante pizze prepareranno 5 panettieri in un'ora?
- A** 90 pizze
 - B** 72 pizze
 - C** 108 pizze

- 55 Un sito che offre corsi online ha 380 iscritti, di cui $\frac{3}{4}$ sono femmine. Si sa inoltre che il 40% degli iscritti ha scelto di frequentare il corso di spagnolo. Prendendo a caso un iscritto a questo sito, qual è la probabilità che sia una studentessa che NON studia spagnolo?
- A** $\frac{9}{20}$
 - B** $\frac{3}{5}$
 - C** $\frac{3}{10}$

- 56 Si dispone di una bilancia a due piatti con il braccio sinistro che misura la metà del braccio destro. Se nel piatto sinistro vengono posti 18 pesi uguali fra loro, quanti pesi dello stesso tipo devono essere posizionati nel piatto destro affinché la bilancia risulti in equilibrio?
- A** 9
 - B** 36
 - C** 54

FIGURA UU 32



- 57 Rispondere al seguente quesito facendo riferimento alla FIGURA UU 32 GD0057
 Quale pentagono deve essere ruotato per formare, in ciascuno dei raggi, parole di senso compiuto?
A Il pentagono 2
B Il pentagono 3
C Il pentagono 1
-
- 58 Gloria investe 50.000 euro in un fondo che garantisce un rendimento annuo del 50% per 2 anni. A quanto ammonta l'incremento di valore registrato dalla sua partecipazione solamente nel primo anno? GD0058
A 25.000 euro
B 37.500 euro
C A un importo identico a quello del secondo anno
-
- 59 Se un aereo percorre 2.000 km in 240 minuti, la sua velocità media sarà: GD0059
A 500 km/h
B 200 km/h
C 480 km/h
-
- 60 Se le lancette di un orologio segnano le 1.30 di martedì, tra 52 ore e 45 minuti saranno: GD0060
A le 6.15 di giovedì
B le 2.15 di martedì
C le 18.15 di venerdì
-
- 61 Il d.lgs. 165/2001 si applica: GD0061
A al personale tecnico-amministrativo delle pubbliche amministrazioni
B solo al personale dei Comuni
C a tutto il personale delle Università tranne assegnisti e dottorandi

62

Il diritto di accesso è, secondo l'articolo 22 della legge 241/1990, il diritto degli interessati di:

- A** prendere visione e di estrarre copia dei documenti amministrativi
- B** ricevere sussidi pubblici
- C** accedere alle cariche pubbliche

63

In base alla legge 18/2011 della Regione Umbria, con riferimento alle opere la cui realizzazione è ad essa affidata, l'Agenzia forestale regionale è titolare di determinati poteri espropriativi:

- A** fin dalla redazione dei relativi progetti
- B** solo a partire dalla conclusione della relativa fase progettuale
- C** solo in fase di esecuzione dei relativi progetti

64

"Non si può escludere che, se Antonio non fosse stato negligente, la relazione sarebbe stata un successo". In base alla precedente affermazione, quale delle seguenti è necessariamente vera?

- A** È possibile che la relazione sarebbe stata un successo qualora Antonio non fosse stato negligente
- B** È possibile che la relazione sarebbe stata un successo, qualora Antonio non fosse stato diligente
- C** Se la relazione fosse stata un successo, è possibile che Antonio sarebbe stato diligente

65

Una confezione di cioccolatini vuota pesa 130 g. Se al suo interno vengono inseriti 20 cioccolatini del peso di 14 g ciascuno, quale sarà il peso lordo della confezione?

- A** 410 g
- B** 280 g
- C** 460 g

