



AFOR Umbria

Agenzia Forestale Regionale

**Bando di concorso pubblico per titoli ed esami
per la copertura di complessivi n. 18 posti
Cat. C posizione economica C1
a tempo pieno e indeterminato
di profili tecnici e amministrativi da impiegare
presso l'Agenda Forestale Regionale dell'Umbria**

**Istruttore amministrativo economico finanziario
Cat. C del CCNL Funzioni Locali**

Prova 02

EB0001

- 1 In base alla legge 18/2011 della Regione Umbria, quale dei seguenti compiti **NON** spetta all'Amministratore unico dell'Agenzia forestale regionale?
- A** Esplicare il controllo sulla gestione economica e finanziaria dell'Agenzia
 - B** Elaborare il programma annuale di attività dell'Agenzia
 - C** Provvedere alla gestione del patrimonio dell'Agenzia

EB0002

- 2 In base alla legge 18/2011 della Regione Umbria, il Collegio dei revisori legali dell'Agenzia forestale regionale trasmette alla Giunta regionale una relazione ... sull'attività svolta dall'Agenzia.
- A** trimestrale
 - B** mensile
 - C** biennale

EB0003

- 3 L'Agenzia forestale regionale della Regione Umbria è stata istituita con:
- A** legge regionale
 - B** legge dello Stato
 - C** decreto legislativo

EB0004

- 4 Per effetto della legge 12/2018 della Regione Umbria, sono state conferite all'Agenzia forestale regionale le funzioni dell'Allegato B della legge regionale 10/2015. Tra esse, **NON** rientrano funzioni in materia di:
- A** viabilità regionale
 - B** bonifica nei territori ove non operano consorzi di bonifica
 - C** funghi e tartufi

EB0005

- 5 Scegliere, in base al Regolamento di organizzazione e funzionamento dell'Afor Umbria, il completamento **ERRATO**. L'Amministratore Unico promuove la partecipazione del personale alla fase di:
- A** verifica dei livelli ottimali della qualità delle attività svolte
 - B** elaborazione delle scelte di organizzazione del lavoro
 - C** qualificazione del personale in funzione dell'attuazione degli obiettivi e dei programmi assegnati ai Servizi

EB0006

- 6 In base al Regolamento di organizzazione e funzionamento dell'Afor Umbria, i Dirigenti:
- A** gestiscono e organizzano le risorse umane, strumentali e finanziarie assegnate
 - B** possono gestire, ma non organizzare, le risorse umane, strumentali e finanziarie assegnate
 - C** possono organizzare, ma non gestire, le risorse umane, strumentali e finanziarie assegnate

EB0007

- 7 In contabilità economico-patrimoniale, il costo del personale è una voce:
- A** del Conto economico
 - B** dello Stato patrimoniale
 - C** del Rendiconto finanziario

-
- 8 EB0008
Le entrate dello Stato sono ripartite in unità elementari di bilancio ai fini:
A della gestione e della rendicontazione
B della gestione
C del controllo parlamentare
-
- 9 EB0009
Che cosa evidenzia, nel quadro generale riassuntivo del bilancio di previsione dello Stato, il risultato differenziale delle operazioni finali, rappresentate da tutte le entrate e tutte le spese, escluse le operazioni di accensione e di rimborso di prestiti?
A Il saldo netto da finanziare o da impiegare
B Il saldo della bilancia dei pagamenti
C Il risparmio degli Enti pubblici
-
- 10 EB0010
"I residui passivi" sono:
A somme impegnate ma non pagate entro il termine dell'esercizio
B somme previste ma non impegnate entro il termine dell'esercizio
C somme impegnate ma non iscritte a Bilancio
-
- 11 EB0011
Ai sensi dell'articolo 40 del d.lgs. 118/2011, il bilancio di previsione è deliberato:
A in pareggio finanziario di competenza
B in avanzo
C in disequilibrio economico
-
- 12 EB0012
Ai sensi dell'articolo 45 del d.lgs. 118/2011, le previsioni di spesa del bilancio di previsione sono classificate in:
A missioni e programmi
B titoli e tipologie
C aree omogenee di attività, che ogni regione può modificare con la legge di contabilità regionale in base alle necessità della propria programmazione
-
- 13 EB0013
In base all'Allegato 4/2 del d.lgs. 118/2011, l'impegno costituisce la prima fase del procedimento di spesa. Sono elementi costitutivi dell'impegno tutti i seguenti, TRANNE:
A il soggetto debitore
B la ragione del debito
C l'indicazione della somma da pagare
-
- 14 EB0014
In base al d.lgs. 118/2011, Allegato 4/4, il bilancio consolidato del gruppo Amministrazione Pubblica è un documento che rappresenta il risultato:
A economico, patrimoniale e finanziario del gruppo
B soltanto economico del gruppo
C economico, patrimoniale e finanziario di ogni componente del gruppo
-

-
- 15 EB0015
A norma del d.lgs. 81/2008, si considerano dispositivi di protezione individuale:
A tutte le attrezzature destinate a essere indossate e tenute dal lavoratore allo scopo di proteggerlo durante il lavoro
B le attrezzature dei servizi di soccorso
C i materiali per l'autodifesa o la dissuasione
-
- 16 EB0016
Secondo il d.lgs. 81/2008, quale figura professionale è nominata dal datore di lavoro per effettuare la sorveglianza sanitaria?
A Il medico competente
B Il responsabile del servizio di prevenzione e protezione
C Il rappresentante dei lavoratori per la sicurezza
-
- 17 EB0017
Il rappresentante dei lavoratori per la sicurezza (RLS) è, ai sensi dell'art. 2 del d.lgs. 81/2008:
A la persona eletta o designata per rappresentare i lavoratori per quanto concerne gli aspetti della salute e della sicurezza durante il lavoro
B la persona designata tra i lavoratori esclusivamente dal datore di lavoro, secondo le capacità e requisiti professionali posseduti, per rappresentare l'azienda
C un consulente dei lavoratori obbligatoriamente in servizio presso l'ASSL
-
- 18 EB0018
A norma dell'art. 44 del d.lgs. 81/2008, il lavoratore che, in caso di pericolo grave, immediato e inevitabile, si allontana dal posto di lavoro:
A non può subire pregiudizio alcuno
B è sanzionato con una decurtazione dello stipendio
C è punito con l'arresto
-
- 19 EB0019
Identificare, a norma dell'articolo 2 del d.lgs. 81/2008, la corretta definizione di "rischio".
A Probabilità di raggiungimento del livello potenziale di danno nelle condizioni di impiego o di esposizione a un determinato fattore o agente, oppure alla loro combinazione
B Proprietà o qualità intrinseca di un determinato fattore avente il potenziale di causare danni
C Valutazione globale e documentata di tutti i rischi per la salute e sicurezza dei lavoratori presenti nell'ambito dell'organizzazione in cui essi prestano la propria attività
-
- 20 EB0020
Ai sensi dell'art. 3 del d.lgs. 50/2016, il termine "consorzio" si riferisce ai consorzi previsti dall'ordinamento:
A con o senza personalità giuridica
B esclusivamente dotati di personalità giuridica
C esclusivamente privi di personalità giuridica
-

-
- EB0021
- 21 In base al d.lgs. 50/2016, quando la P.A. si avvale del metodo del "dialogo competitivo", il criterio per l'aggiudicazione dell'appalto pubblico è:
- A** l'offerta con il miglior rapporto qualità/prezzo
 - B** l'offerta qualitativamente migliore indipendentemente dal prezzo
 - C** il prezzo più basso

-
- EB0022
- 22 Ai sensi dell'art. 23 del d.lgs. 50/2016, la progettazione in materia di lavori pubblici si articola secondo tre livelli di successivi approfondimenti tecnici:
- A** progetto di fattibilità tecnica ed economica, progetto definitivo e progetto esecutivo
 - B** progetto preliminare, progetto autorizzatorio e progetto esecutivo
 - C** progetto preliminare, progetto definitivo e verifica del progetto

-
- EB0023
- 23 Ai sensi del d.lgs. 50/2016, l'affidamento e l'esecuzione di appalti e concessioni si svolge, tra gli altri, nel rispetto del principio di:
- A** economicità
 - B** consapevolezza
 - C** rendimento

-
- EB0024
- 24 Se l'amministrazione aggiudicatrice decide di avvalersi della procedura aperta di cui all'art. 60 del Codice dei contratti pubblici:
- A** qualsiasi operatore economico interessato può presentare un'offerta
 - B** possono presentare offerta solo gli operatori individuati dalla stazione appaltante
 - C** l'operatore economico può chiedere di partecipare presentando una richiesta di invito formale

-
- EB0025
- 25 Ai sensi dell'art. 97 del d.lgs. 50/2016, si definiscono offerte anormalmente basse:
- A** le offerte che appaiono anormalmente basse, sulla base di un giudizio tecnico sulla congruità, serietà, sostenibilità e realizzabilità dell'offerta
 - B** le offerte che presentano un prezzo molto alto rispetto alle medie dei prezzi delle offerte concorrenti
 - C** le offerte inferiori a percentuali prefissate dalla stazione appaltante

-
- EB0026
- 26 In base al Regolamento UE 2016/679 (GDPR), trattare dati personali che rivelino l'origine razziale o etnica, le opinioni politiche, le convinzioni religiose o filosofiche:
- A** è ammesso se il trattamento è necessario per tutelare un interesse vitale dell'interessato
 - B** è sempre vietato
 - C** è vietato anche se l'interessato ha prestato il proprio consenso esplicito al trattamento di tali dati personali per una o più finalità specifiche

-
- 27 **Ai sensi dell'art. 24 della legge 241/1990, la P.A. può rifiutare l'accesso ai documenti amministrativi:** EB0027
- A** nei procedimenti tributari, per i quali restano ferme le particolari norme che li regolano
 - B** solo nei casi di necessità e urgenza
 - C** sempre, previo decreto motivato del responsabile del procedimento
-
- 28 **Ai sensi della legge 241/1990, se un atto amministrativo è privo di un suo elemento essenziale, l'atto è:** EB0028
- A** nullo
 - B** annullabile
 - C** inefficace
-
- 29 **La motivazione dell'atto è uno strumento volto a garantire la trasparenza, perché in essa:** EB0029
- A** sono indicati i presupposti di fatto e le ragioni giuridiche che hanno determinato la decisione assunta
 - B** viene indicata l'autorità a cui il destinatario del provvedimento può ricorrere
 - C** viene indicato il termine entro cui è ammissibile il ricorso in sede amministrativa
-
- 30 **Ai sensi della legge 190/2012, chi individua il Responsabile della prevenzione della corruzione e della trasparenza?** EB0030
- A** L'organo di indirizzo
 - B** L'ANAC
 - C** Il Dipartimento della funzione pubblica sentiti gli organi di indirizzo
-
- 31 **Ai sensi dell'articolo 1 del d.P.R. 445/2000, la firma digitale:** EB0031
- A** è un particolare tipo di firma elettronica qualificata basata su un sistema di chiavi asimmetriche a coppia che consente al titolare di rendere manifesta l'integrità di un documento informatico
 - B** è un particolare tipo di firma cartacea qualificata basata su un sistema di chiavi asimmetriche a coppia che consente al titolare di rendere manifesta l'integrità di un documento informatico
 - C** è la riproduzione fotografica della firma di un soggetto
-
- 32 **A norma dell'art. 6 della legge 241/1990, il Responsabile del procedimento amministrativo:** EB0032
- A** propone l'indizione delle conferenze di servizi
 - B** fissa il termine per l'adozione del provvedimento finale
 - C** non può mai valutare, neanche a fini istruttori, i presupposti che siano rilevanti per l'emanazione di provvedimento
-
- 33 **A norma del d.lgs. 39/2013, l'inconferibilità di incarichi dirigenziali nelle Pubbliche Amministrazioni:** EB0033
- A** può derivare dall'essere stati componenti di organi di indirizzo politico
 - B** concerne unicamente chi abbia riportato determinate condanne penali
 - C** concerne chi abbia riportato qualsiasi condanna penale
-

-
- 34 **Ai sensi della legge 190/2012, quale durata è prevista per il Piano Nazionale Anticorruzione?** EB0034
- A** Triennale, con aggiornamenti annuali
 - B** Annuale, con aggiornamenti semestrali
 - C** Quinquennale, con aggiornamenti annuali
-
- 35 **In base al d.lgs. 33/2013, i dati oggetto di accesso civico sono pubblici:** EB0035
- A** e chiunque ha diritto di utilizzarli e riutilizzarli
 - B** e chiunque ha diritto di utilizzarli, ma non di riutilizzarli
 - C** ma non possono essere liberamente utilizzati
-
- 36 **Ai sensi dell'art. 54 del d.lgs. 165/2001 e s.m.i., la violazione dei doveri contenuti nel codice di comportamento dei dipendenti della Pubblica Amministrazione, compresi quelli relativi all'attuazione del Piano di prevenzione della corruzione:** EB0036
- A** è fonte di responsabilità disciplinare
 - B** non è comunque fonte di responsabilità disciplinare
 - C** comporta licenziamento per giustificato motivo oggettivo
-
- 37 **Ai sensi dell'art. 4 della legge 53/2000, il dipendente, nell'arco della propria vita lavorativa, può chiedere, per documentati e gravi motivi familiari, un periodo di congedo non superiore a:** EB0037
- A** due anni, continuativi o frazionati
 - B** 30 mesi, continuativi o frazionati
 - C** 36 mesi, solo se frazionati
-
- 38 **Ai sensi dell'art. 52, comma 3, d.lgs. 165 del 2001, nel lavoro pubblico si considera svolgimento di mansioni superiori:** EB0038
- A** l'attribuzione in modo prevalente, sotto il profilo qualitativo, quantitativo e temporale, dei compiti propri di dette mansioni
 - B** l'attribuzione in modo prevalente, sotto il solo profilo qualitativo, dei compiti propri di dette mansioni
 - C** l'attribuzione in modo prevalente, sotto il solo profilo temporale, dei compiti propri di dette mansioni
-
- 39 **Ai sensi dell'art. 4 del d.P.R. 62/2013 (Codice di comportamento dei dipendenti pubblici):** EB0039
- A** il dipendente non chiede, né sollecita, per sé o per altri, regali o altre utilità
 - B** il dipendente può chiedere o sollecitare per sé o per altri, regali o altre utilità
 - C** il dipendente può chiedere o sollecitare per sé o per altri, regali o altre utilità di valore inferiore a 10.000 euro

- 40 In base all'art. 55-bis del d.lgs. 165/2001, prima di adottare un provvedimento disciplinare, l'Amministrazione deve procedere alla contestazione scritta dell'addebito, **TRANNE** nel caso in cui la sanzione prevista è:
- A** il rimprovero verbale
 - B** la sospensione del servizio per un periodo superiore a 10 giorni
 - C** il licenziamento

- 41 Un nuovo gioco ha le seguenti regole: se un numero è divisibile per 9 vale 4 punti; se è divisibile per 5 vale 3 punti. In base a tali regole, quale dei seguenti numeri vale di più?
- A** 18
 - B** 50
 - C** 35

- 42 Grazia investe 90.000 euro in un fondo che garantisce un rendimento annuo del 40% per 3 anni. A quanto ammonta l'incremento di valore registrato dalla sua partecipazione solamente nel primo anno?
- A** 36.000 euro
 - B** 70.560 euro
 - C** A un importo identico a quello del secondo anno

- 43 "Non esiste piazza senza cabina telefonica". Se la precedente affermazione è **FALSA**, quale delle seguenti è necessariamente vera?
- A** Esiste almeno una piazza senza cabina telefonica
 - B** Tutte le piazze hanno la cabina telefonica
 - C** Nessuna piazza ha la cabina telefonica

DIAGRAMMA RY 00

Individuare la relazione insiemistica esistente tra i termini dati.



DIAGRAMMA 1



DIAGRAMMA 2



DIAGRAMMA 3



DIAGRAMMA 4



DIAGRAMMA 5



DIAGRAMMA 6

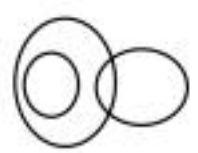
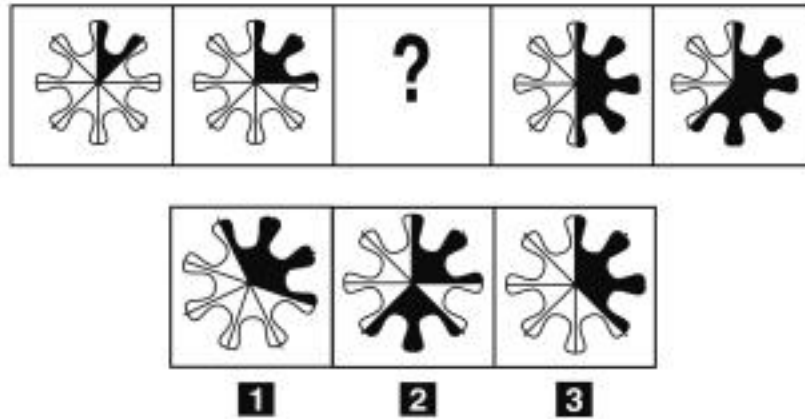


DIAGRAMMA 7

- 44 Rispondere al seguente quesito facendo riferimento al **DIAGRAMMA RY 00**
- Neonati, Gravidanze, Donne**
- A** Diagramma 6
 - B** Diagramma 1
 - C** Diagramma 2

- 45 Completare correttamente la seguente successione numerica: 1; 7; 8; 15; 23; 38; 61; ?; ?
- A** 99; 160
B 99; 150
C 98; 159

FIGURA TS 49



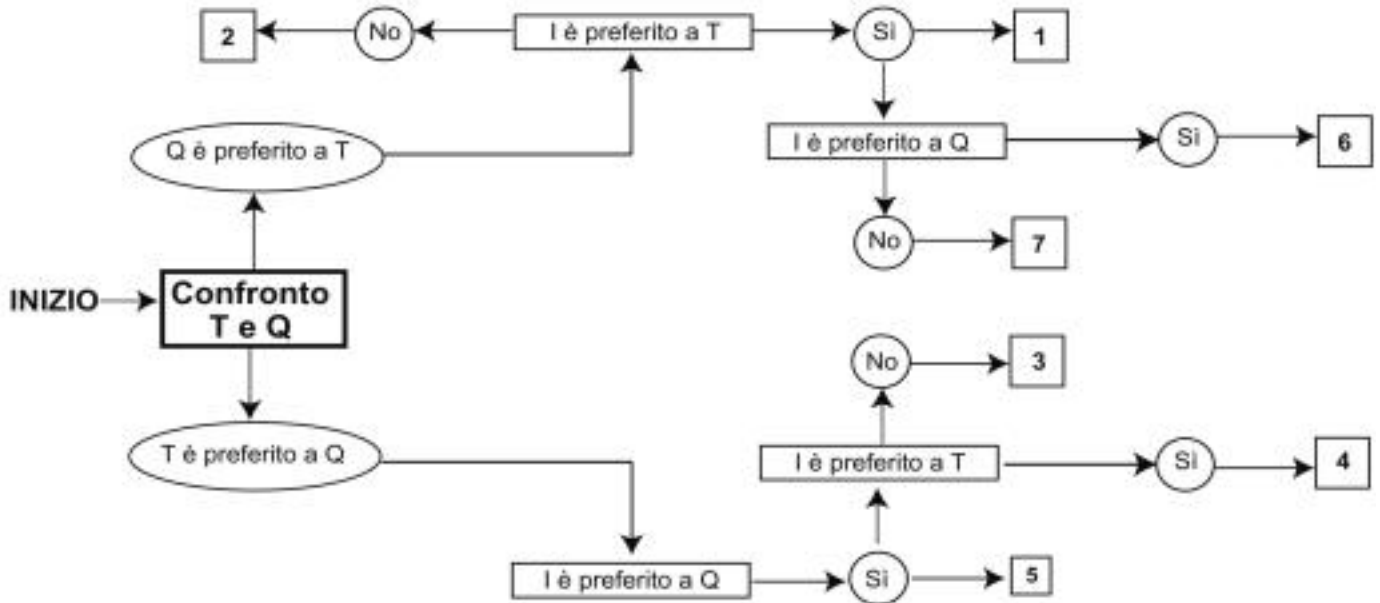
- 46 Rispondere al seguente quesito facendo riferimento alla FIGURA TS 49
 Quale tra i disegni proposti va inserito al posto del punto interrogativo?
- A** Figura 3
B Figura 1
C Figura 2

- 47 "Tutti i postini sono allegri. Patrizio è un motociclista. Tutti i motociclisti sono allegri". In base alle precedenti affermazioni, quale delle seguenti NON è necessariamente vera?
- A** Patrizio è un postino
B Patrizio è allegro
C Chi non è allegro non è un postino

DIAGRAMMA SZ 14

Una società sottopone ai propri dipendenti un test per conoscere le loro abitudini. Una domanda verte su quale sia il canale seguito per conoscere le notizie. La classifica avviene valutando a due a due tre mezzi di comunicazione, giudicandone sempre uno come preferito all'altro e mai due come ugualmente preferiti. L'obiettivo quindi è stabilire un ordine di preferenza generale tra i dipendenti.

T = telegiornale, Q = quotidiano, I = Internet.



- 48 Rispondere al seguente quesito facendo riferimento al DIAGRAMMA SZ 14
Indicare l'ordine di preferenza risultante alla casella "3" del diagramma.

EB0048

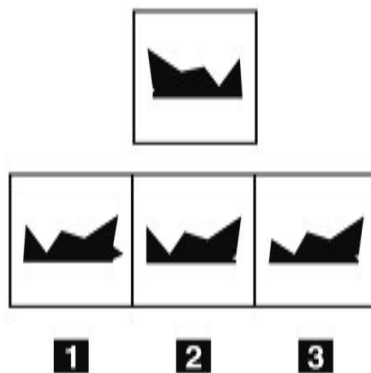
- A** TIQ
- B** IQT
- C** Non è possibile stabilire alcun ordine

- 49 Indicare in quale delle seguenti alternative la lettera R è presente un numero maggiore di volte rispetto alla lettera B.

EB0049

- A** RBBRRBBRBRBR
- B** RBBRRBBBBRBRBB
- C** BBRBRBRBRBRBR

FIGURA SN 58

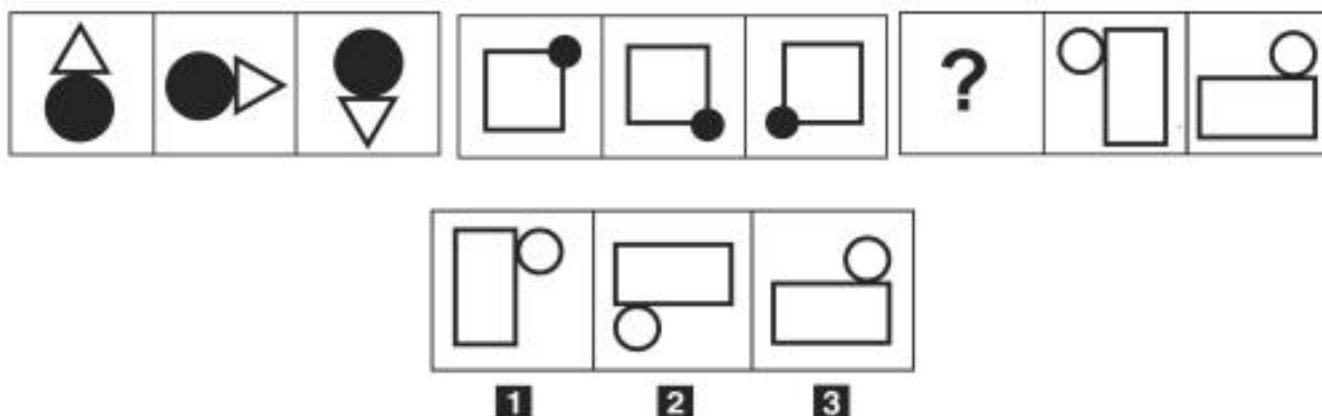


50 Rispondere al seguente quesito facendo riferimento alla FIGURA SN 58
 Individuare la figura che corrisponde alla prima composizione vista allo specchio.

EB0050

- A** Figura 2
- B** Figura 1
- C** Figura 3

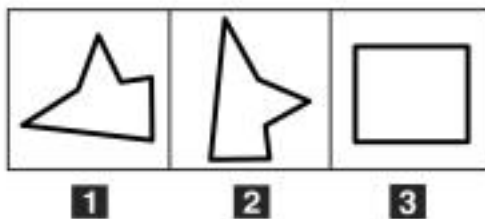
FIGURA UR 81



51 Rispondere al seguente quesito facendo riferimento alla FIGURA UR 81
 Individuare la figura che completa la serie.

EB0051

- A** Figura 2
- B** Figura 1
- C** Figura 3



- 52 Rispondere al seguente quesito facendo riferimento alla FIGURA UR 98 EB0052
Individuare la figura da scartare.
 A Figura 3
 B Figura 1
 C Figura 2

- 53 EB0053
Se il padre di Francesca è fratello della madre di Alessandro, indicare in quale rapporto di parentela è Alessandro con la madre di Francesca.
 A Nipote
 B Zio
 C Fratello

- 54 EB0054
Quali, tra i termini proposti, completano correttamente la seguente proporzione verbale? Brado : selvaggio = X : Y
 A X = smarrito; Y = perso
 B X = eccessivo; Y = misurato
 C X = logico; Y = artificioso

- 55 EB0055
Se le lancette di un orologio segnano le 13.30 di lunedì, tra 47 ore e 45 minuti saranno:
 A le 13.15 di mercoledì
 B le 12.15 di mercoledì
 C le 13.15 di martedì

- 56 EB0056
Se 4 pasticciere preparano 32 tortine in 20 minuti, lavorando allo stesso ritmo quante tortine prepareranno 5 pasticciere in un'ora?
 A 120 tortine
 B 96 tortine
 C 144 tortine

57

Un sito che offre corsi online ha 472 iscritti, di cui $\frac{5}{8}$ sono femmine. Si sa inoltre che il 75% degli iscritti ha scelto di frequentare il corso di ebraico. Prendendo a caso un iscritto a questo sito, qual è la probabilità che sia una studentessa che NON studia ebraico?

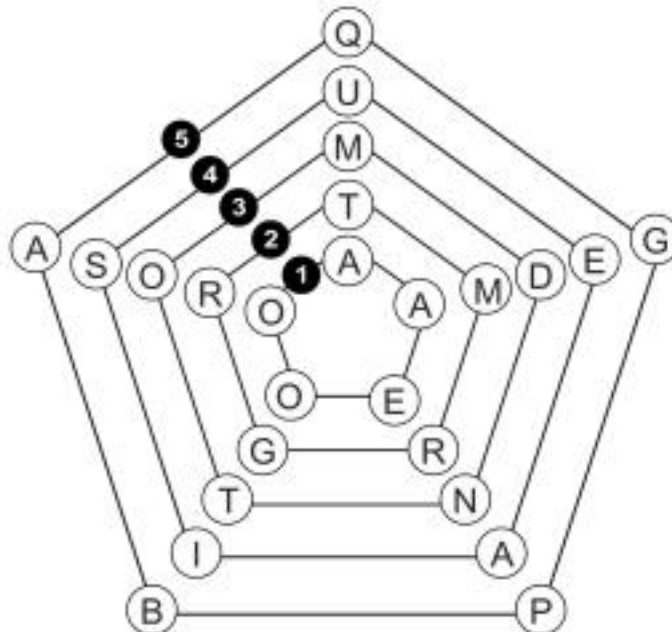
- A** $\frac{5}{32}$
- B** $\frac{1}{4}$
- C** $\frac{15}{32}$

58

Si dispone di una bilancia a due piatti con il braccio sinistro che misura la metà del braccio destro. Se nel piatto sinistro vengono posti 22 pesi uguali fra loro, quanti pesi dello stesso tipo devono essere posizionati nel piatto destro affinché la bilancia risulti in equilibrio?

- A** 11
- B** 44
- C** 66

FIGURA UU 34



59

Rispondere al seguente quesito facendo riferimento alla FIGURA UU 34

Quale pentagono deve essere ruotato per formare, in ciascuno dei raggi, parole di senso compiuto?

- A** Il pentagono 3
- B** Il pentagono 2
- C** Il pentagono 1

60

Se un tram percorre 72 km in 180 minuti, la sua velocità media sarà:

- A** 24 km/h
- B** 0,4 km/h
- C** 72 km/h

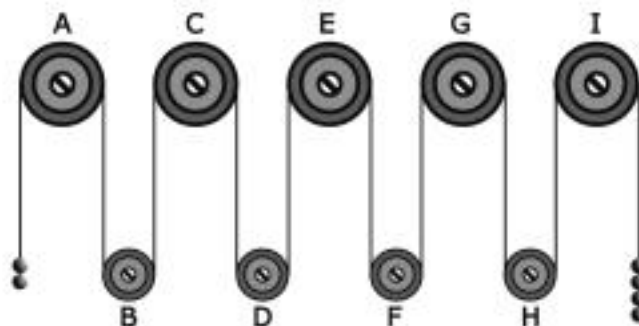
- 61 EB0061
Ai sensi della legge 241/1990, la richiesta di accesso ai documenti amministrativi deve essere motivata?
A Sì, sempre
B No, mai
C Solo se contiene dati personali di altri soggetti interessati

- 62 EB0062
Qual è il corretto significato di "RSPP" nell'ambito di applicazione del d.lgs. 81/2008?
A Responsabile del Servizio di Prevenzione e Protezione
B Rappresentante del Sistema di Prevenzione e Protezione
C Referente del Servizio di Prevenzione e Protezione

- 63 EB0063
In base al Regolamento di organizzazione e funzionamento dell'Afor Umbria, la valutazione dei titolari di posizione organizzativa dell'Agenzia viene effettuata:
A dall'Amministratore Unico, su proposta dei Dirigenti
B dalla Giunta regionale
C dal Presidente della Giunta regionale, su proposta dell'Amministratore Unico

FIGURA SU 14

Il sistema indicato in figura si presenta nella sua fase iniziale con sfere di metallo tutte della stessa massa e fune di massa trascurabile.



- 64 EB0064
Rispondere al seguente quesito facendo riferimento alla FIGURA SU 14
Se il sistema è sottoposto soltanto al campo gravitazionale con assenza di attrito, allora si può concludere che:
A la carrucola G gira in senso orario
B la carrucola H gira in senso orario
C la carrucola G gira in senso antiorario

- 65 EB0065
Se fante vale fne e palato vale plt, allora parzialzasse vale:
A prilzas
B prilzase
C prilzzss

