



**AFOR Umbria**

Agenzia Forestale Regionale

**Bando di concorso pubblico per titoli ed esami  
per la copertura di complessivi n. 18 posti  
Cat. C posizione economica C1  
a tempo pieno e indeterminato  
di profili tecnici e amministrativi da impiegare  
presso l'Agencia Forestale Regionale dell'Umbria**

**Istruttore tecnico perito agrario/forestale  
Cat. C del CCNL Funzioni Locali**

**Prova 03**

- 
- 1 FC0001  
**Le disposizioni del d.lgs. 34/2018 sono finalizzate a garantire la salvaguardia delle foreste:**  
**A** nella loro ripartizione geografica  
**B** nella loro redditività  
**C** nel loro impiego
- 
- 2 FC0002  
**In base al d.lgs. 34/2018, l'insieme delle azioni selvicolturali volte a valorizzare la molteplicità delle funzioni del bosco rientra:**  
**A** nella gestione forestale sostenibile  
**B** nelle pratiche selvicolturali  
**C** nell'arboricoltura da legno
- 
- 3 FC0003  
**In base al d.lgs. 34/2018, la Strategia forestale nazionale è soggetta a revisione e aggiornamento:**  
**A** quinquennale  
**B** triennale  
**C** annuale
- 
- 4 FC0004  
**In base alla legge 28/2001 e s.m.i. della Regione Umbria, il coordinamento delle attività di previsione, prevenzione e lotta attiva contro gli incendi è di competenza:**  
**A** della Regione  
**B** della Conferenza unificata Stato-Regioni  
**C** del Ministero dell'Agricoltura, della Sovranità alimentare e delle Foreste
- 
- 5 FC0005  
**In base alla legge 28/2001 e s.m.i. della Regione Umbria, il patentino rilasciato agli operatori forestali iscritti nell'apposito elenco è:**  
**A** esente da tasse  
**B** sottoposto a tassa comunale  
**C** sottoposto unicamente alla tassa di rilascio
- 
- 6 FC0006  
**In base al Regolamento 17 dicembre 2002, n. 7 di attuazione della legge regionale della Regione Umbria 28/2001, in caso di abbattimento delle piante, la superficie del taglio deve presentarsi in ogni caso:**  
**A** liscia  
**B** concava  
**C** convessa
- 
- 7 FC0007  
**In base al Regolamento di organizzazione e funzionamento dell'Afor Umbria, quale dei seguenti NON è un compito dei Dirigenti dei Servizi?**  
**A** Autorizzare la contrazione di mutui  
**B** Stipulare contratti e convenzioni su delega dell'Amministratore Unico  
**C** Proporre all'Amministratore Unico la programmazione nell'uso delle risorse umane
-

- 8 In base alla legge 18/2011 della Regione Umbria, al personale inquadrato come impiegato forestale si applica:
- A** il contratto collettivo nazionale per gli addetti ai lavori di sistemazione idraulico-forestale e idraulico-agraria
  - B** il contratto collettivo nazionale enti locali
  - C** un contratto di diritto privato

- 9 In base al Regolamento di organizzazione e funzionamento dell'Afor Umbria, l'articolazione preposta all'organizzazione e gestione di specifiche funzioni individuate all'interno del Servizio è:
- A** la Sezione
  - B** il Compartimento
  - C** la Posizione

- 10 In base alla legge 18/2011 della Regione Umbria, l'Agenzia forestale regionale opera quale:
- A** ente tecnico-operativo
  - B** ente territoriale
  - C** ente pubblico economico

- 11 In base alla legge 12/2015 e s.m.i. della Regione Umbria, la Regione promuove e sostiene la ricerca e la sperimentazione nel settore agricolo, con l'obiettivo di salvaguardare sistemi agricoli diversificati, nella direzione di uno sviluppo:
- A** durevole
  - B** remunerativo
  - C** controllabile

- 12 In base alla legge 12/2015 e s.m.i. della Regione Umbria, le industrie agroalimentari che utilizzano organismi geneticamente modificati presenti nel ciclo produttivo come coadiuvanti sono escluse dall'accesso ai contributi erogati dalla Regione?
- A** Sì, sono escluse
  - B** Solo se il coadiuvante è prodotto nel territorio regionale
  - C** No, non sono escluse

- 13 In base alla legge 12/2015 e s.m.i. della Regione Umbria, al fine di tutelare la qualità dei suoli agricoli, nell'attività agricola la Regione promuove l'impiego del:
- A** letame
  - B** concime
  - C** correttivo

- 
- 14 FC0014  
In base alla legge 12/2015 e s.m.i. della Regione Umbria, il sistema delle conoscenze in agricoltura comprende tutte le seguenti attività, **TRANNE** una. Quale?
- A** Promozione delle colture transgeniche
  - B** Assistenza e consulenza alle imprese
  - C** Animazione socio-economica per lo sviluppo agricolo e rurale
- 
- 15 FC0015  
Quale delle seguenti sigle **NON** identifica siti o aree che compongono Rete Natura 2000?
- A** C
  - B** ZSC
  - C** ZPS
- 
- 16 FC0016  
In base al d.lgs. 152/2006, "tutte le acque superficiali correnti o stagnanti e tutte le acque sotterranee all'interno della linea di base che serve da riferimento per definire il limite delle acque territoriali", sono:
- A** acque interne
  - B** acque superficiali
  - C** acque sotterranee
- 
- 17 FC0017  
In base al d.lgs. 42/2004, sono "beni paesaggistici" determinati immobili e aree costituenti espressione di valori:
- A** naturali del territorio
  - B** politici del territorio
  - C** sociali
- 
- 18 FC0018  
In base al d.P.R. 31/2017 e s.m.i., richiede l'autorizzazione paesaggistica la sostituzione di alberi in aree pubbliche o private con esemplari adulti della stessa specie (escludendo gli interventi che interessano i beni di cui all'art. 136, comma 1, lettere a) e b) del Codice dei beni culturali e del paesaggio)?
- A** No, non la richiede
  - B** Sì, la richiede
  - C** La richiede solo in aree private
- 
- 19 FC0019  
Ai sensi dell'articolo 31, comma 4, del d.lgs. 50/2016, con riferimento al ruolo e alle funzioni del responsabile del procedimento negli appalti e nelle concessioni, quale tra le seguenti alternative **NON** è un compito del RUP?
- A** Pronunciarsi sulla localizzazione e stato dell'opera
  - B** Curare il corretto e razionale svolgimento delle procedure
  - C** Accertare la libera disponibilità di aree e immobili necessari
-

- 20 In base al d.m. 49/2018, il direttore dei lavori impartisce all'esecutore tutte le disposizioni e le istruzioni operative necessarie, tramite ordini di servizio che:
- A** devono essere annotati nel giornale dei lavori
  - B** devono essere resi pubblici
  - C** possono essere comunicati anche al RUP

- 21 In base al d.m. 49/2018, il direttore dei lavori deve predisporre e tenere determinati documenti contabili. NON è uno di essi:
- A** il programma di esecuzione dei lavori
  - B** il conto finale dei lavori
  - C** lo stato di avanzamento lavori

- 22 Nel codice dei contratti (d.lgs. 50/2016) come viene qualificata la persona fisica o giuridica che offre sul mercato la realizzazione di lavori o opere, la fornitura di prodotti o la prestazione di servizi?
- A** Operatore economico
  - B** Offerente
  - C** Promotore

- 23 In base al d.lgs. 50/2016, quali sono i livelli di progettazione per gli appalti, per le concessioni di lavori e per i servizi?
- A** Progetto di fattibilità tecnica ed economica, progetto definitivo e progetto esecutivo
  - B** Progetto preliminare e piano esecutivo
  - C** Progetto definitivo e dettagli costruttivi

- 24 In base al legge 353/2000, il Piano regionale per la programmazione delle attività di previsione, prevenzione e lotta attiva contro gli incendi boschivi deve individuare tutti i seguenti, TRANNE:
- A** la definizione di incendio boschivo
  - B** le aree a rischio di incendio boschivo
  - C** la previsione economico-finanziaria delle attività previste nel piano stesso

- 25 Ai sensi della legge 353/2000, entro quale termine i Comuni provvedono a censire, tramite apposito catasto, i soprassuoli già percorsi dal fuoco nell'ultimo quinquennio?
- A** Novanta giorni dalla data di approvazione del piano regionale di previsione, prevenzione e lotta attiva contro gli incendi boschivi
  - B** Centoventi giorni dalla data di approvazione del piano regionale di previsione, prevenzione e lotta attiva contro gli incendi boschivi
  - C** Sessanta giorni dal verificarsi dell'ultimo incendio

---

26 FC0026  
**Ai sensi della legge 353/2000 (Legge Quadro in materia di incendi boschivi), che cos'è il COAU?**  
**A** Centro Operativo Aereo Unificato  
**B** Comitato Organizzatore Attività Unitarie  
**C** Centro Osservazione Animali Unici

---

27 FC0027  
**Ai sensi del d.lgs. 81/2008, l'obbligo di uso dei DPI sussiste:**  
**A** quando i rischi non possono essere evitati o sufficientemente ridotti da misure tecniche di prevenzione, da mezzi di protezione collettiva, da misure, metodi o procedimenti di riorganizzazione del lavoro  
**B** ogni qualvolta si presentino dei rischi  
**C** quando non sono presenti sul luogo di lavoro altri mezzi o misure tecniche che consentono di evitare il rischio

---

28 FC0028  
**A norma del del d.lgs. 81/2008, NON è una specifica misura generale di tutela:**  
**A** la riduzione dei rischi a valle  
**B** la riduzione dei rischi alla fonte  
**C** la limitazione al minimo del numero dei lavoratori che sono, o che possono essere, esposti al rischio

---

29 FC0029  
**In base alle disposizioni dell'art. 28 del d.lgs. 81/2008 e successive modifiche, in materia di tutela della salute e sicurezza nei luoghi di lavoro, chi effettua la valutazione dei rischi?**  
**A** Il datore di lavoro  
**B** Il rappresentante dei lavoratori  
**C** Il Ministro della Salute

---

30 FC0030  
**Ai sensi del d.lgs. 81/2008, un movimento delle braccia o delle mani in forma convenzionale per guidare persone che effettuano manovre implicanti un rischio o un pericolo attuale per i lavoratori si definisce:**  
**A** segnale gestuale  
**B** prescrizione a gesti  
**C** indicazione gestuale

---

31 FC0031  
**In base alla legge 190/2012, il Piano nazionale anticorruzione:**  
**A** ha durata triennale ed è aggiornato annualmente  
**B** ha durata biennale ed è aggiornato annualmente  
**C** ha durata quinquennale ed è aggiornato annualmente

---

- 
- 32 FC0032
- Che cosa si intende per accesso civico "semplice"?**
- A** Il diritto di chiunque di richiedere alle Pubbliche Amministrazioni la pubblicazione di quei documenti, quelle informazioni o quei dati per i quali sussiste lo specifico obbligo di pubblicazione da parte delle stesse, nell'eventualità in cui esse non vi abbiano già spontaneamente provveduto
  - B** Il diritto di richiedere documenti, dati e informazioni detenuti da una Pubblica Amministrazione riguardanti attività di pubblico interesse, purché il soggetto che lo richiede abbia un interesse diretto, concreto e attuale rispetto al documento stesso
  - C** Il diritto di accedere a dati e documenti detenuti dalla Pubblica Amministrazione ulteriori rispetto a quelli oggetto di pubblicazione obbligatoria ai sensi del d.lgs. 33/2013
- 

- 33 FC0033
- I termini per la conclusione del procedimento amministrativo previsti dall'art. 2 della legge 241/1990, come modificata e integrata, sono:**
- A** trenta giorni, salvo casi diversi previsti dalla legge
  - B** sessanta giorni, salvo casi diversi previsti dalla legge
  - C** quarantacinque giorni, in ogni caso
- 

- 34 FC0034
- Ai sensi dell'art. 5, del GdPR (Regolamento UE 2016/679), i dati personali:**
- A** sono conservati in modo da consentire l'identificazione degli interessati per un arco di tempo non superiore al conseguimento delle finalità per le quali sono trattati
  - B** non sono mai conservati in modo da consentire l'identificazione degli interessati
  - C** devono consentire sempre il riferimento con certezza al soggetto interessato
- 

- 35 FC0035
- Secondo il d.P.R. 445/2000, le dichiarazioni sostitutive:**
- A** hanno la stessa validità temporale degli atti che sostituiscono
  - B** sono valide per un massimo di 30 giorni
  - C** hanno validità stabilita con Regolamento dell'Amministrazione
- 

- 36 FC0036
- Un provvedimento amministrativo a cui mancano degli elementi essenziali è:**
- A** nullo
  - B** revocabile
  - C** annullabile
- 

- 37 FC0037
- In base a quanto viene stabilito dal d.lgs. 165/2001, la violazione dei doveri contenuti nel Codice di comportamento è fonte di:**
- A** responsabilità disciplinare
  - B** sanzione penale per comportamento doloso
  - C** interdizione retroattiva
-

- 
- FC0038
- 38 **La disciplina sul pubblico impiego prevede conseguenze particolari se un'Amministrazione Pubblica non provvede periodicamente a valutare la consistenza delle proprie dotazioni organiche?**
- A** Sì, non può assumere nuovo personale
  - B** Può assumere nuovo personale solo con contratti a tempo determinato
  - C** Non può assumere nuovo personale se non per compensare eventuali pensionamenti
- 

- FC0039
- 39 **Ai sensi dell'articolo 4 del d.P.R. 62/2013, il dipendente della Pubblica Amministrazione:**
- A** non chiede regali neanche di modico valore a titolo di corrispettivo per compiere o per aver compiuto un atto del proprio ufficio da soggetti che possano trarre benefici da decisioni o attività inerenti all'ufficio
  - B** non chiede regali di elevato valore a titolo di corrispettivo per compiere un atto del proprio ufficio da soggetti che possano trarre benefici da decisioni o attività inerenti all'ufficio, ma può chiedere regali di modica entità
  - C** può chiedere regali a titolo di corrispettivo per compiere o per aver compiuto un atto del proprio ufficio da soggetti che possano trarre benefici da decisioni o attività inerenti all'ufficio
- 

- FC0040
- 40 **Chi vigila sull'applicazione del Codice di comportamento dei dipendenti pubblici (d.P.R. 62/2013) e dei Codici di comportamento adottati dalle singole Amministrazioni?**
- A** I Dirigenti responsabili di ciascuna struttura, le strutture di controllo interno e gli uffici etici e di disciplina
  - B** I dipendenti più anziani di ciascuna struttura, le strutture di controllo esterno e gli uffici comportamentali
  - C** Gli Assessori per il proprio assessorato e i dipendenti più anziani per i propri uffici
- 

- FC0041
- 41 **Alla finale di una gara di motociclismo la classifica dal 1° al 7° posto è la seguente: Aldo, Fausto, Ilaria, Gaia, Beatrice, Claudio, Enrico. Cinque di questi sette centauri guidano moto giapponesi e si sa che a guidarle sono tre tra i primi quattro classificati e tre tra gli ultimi quattro classificati. Si può essere certi che a guidare una moto giapponese sia:**
- A** Gaia
  - B** Fausto
  - C** Ilaria
- 

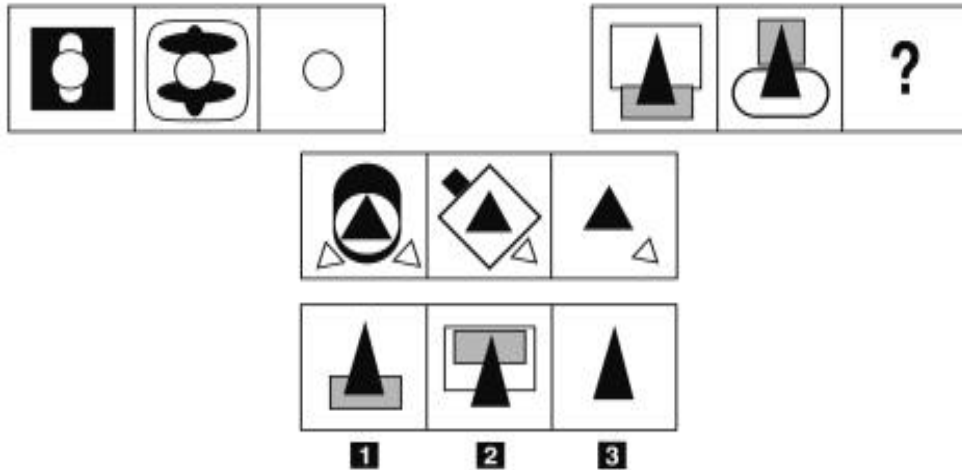
- FC0042
- 42 **Se l'affermazione "tutti i libri di fantascienza sono avvincenti" è FALSA, quale delle seguenti proposizioni è necessariamente vera?**
- A** Almeno un libro di fantascienza non è avvincente
  - B** Almeno un libro di fantascienza è avvincente
  - C** Ci sono un po' di libri di fantascienza che non sono avvincenti
- 

- FC0043
- 43 **"Tutti gli impiegati bancari rientrano dal lavoro alle 5 del pomeriggio. Chi rientra dal lavoro alle 5 del pomeriggio è ogni giorno bloccato nel traffico. Pietro è un impiegato bancario". Se le precedenti affermazioni sono vere, quale delle seguenti NON è necessariamente vera?**
- A** Pietro trascorre tutto il pomeriggio in auto
  - B** Pietro, rientrando dal lavoro alle 5 del pomeriggio, è ogni giorno bloccato nel traffico
  - C** Non esiste un impiegato bancario che non sia ogni giorno bloccato nel traffico
-



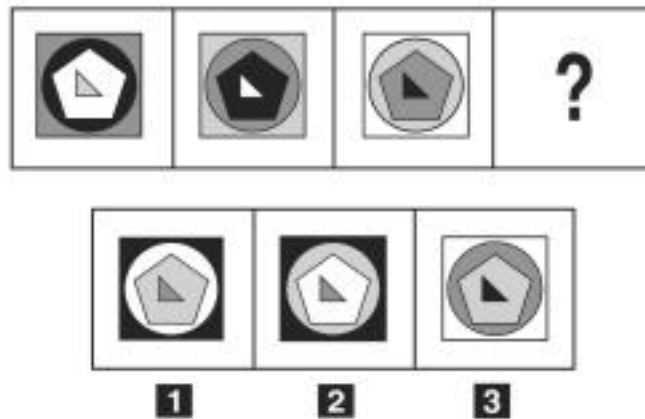
- 44 Quali, tra i termini proposti, completano correttamente la seguente proporzione verbale? Bisturi : chirurgo = X : Y
- A X = piaila; Y = falegname
  - B X = sarto; Y = forbici
  - C X = ospedale; Y = sala operatoria

FIGURA SZ 12




- 45 Rispondere al seguente quesito facendo riferimento alla FIGURA SZ 12  
Individuare la figura mancante.
- A Figura 3
  - B Figura 1
  - C Figura 2

FIGURA SU 29



- 46 Rispondere al seguente quesito facendo riferimento alla FIGURA SU 29  
Completare correttamente la serie incompleta di figure.
- A Figura 1
  - B Figura 2
  - C Figura 3

FIGURA SV 35

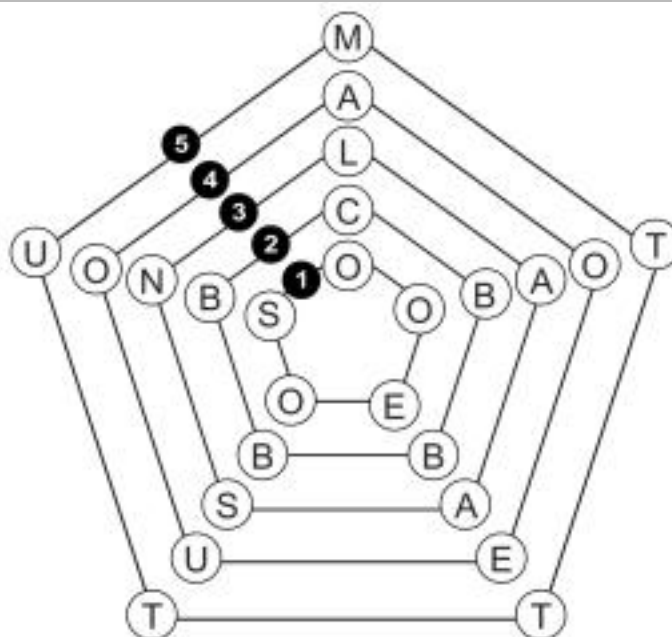


- 47 Rispondere al seguente quesito facendo riferimento alla FIGURA SV 35  
 Quale, tra le figure proposte, è uguale a quella data ruotata in senso antiorario di 130°?

FC0047

- A** Figura 3
- B** Figura 1
- C** Figura 2

FIGURA UT 47

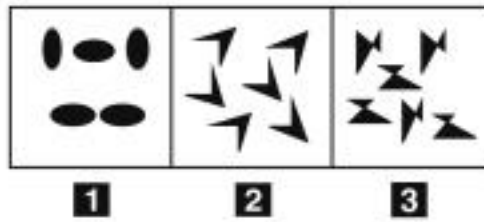


- 48 Rispondere al seguente quesito facendo riferimento alla FIGURA UT 47  
 Affinché in ciascuno dei raggi si formino parole di senso compiuto:

FC0048

- A** il pentagono 2 deve essere scambiato con il pentagono 5
- B** il pentagono 4 deve essere scambiato con il pentagono 1
- C** il pentagono 5 deve essere scambiato con il pentagono 4

FIGURA SN 74

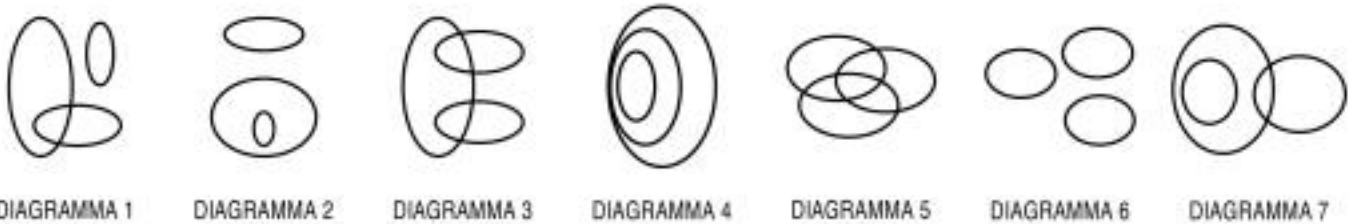


- 49 Rispondere al seguente quesito facendo riferimento alla FIGURA SN 74  
Individuare la figura da scartare
- A** Figura 1
  - B** Figura 2
  - C** Figura 3

FC0049

DIAGRAMMA RY 00

Individuare la relazione insiemistica esistente tra i termini dati.



- 50 Rispondere al seguente quesito facendo riferimento al DIAGRAMMA RY 00  
Cittadini perugini, Padri perugini, Madri
- A** Diagramma 7
  - B** Diagramma 2
  - C** Diagramma 1

FC0050

- 51 Un sito che offre corsi online ha 420 iscritti, di cui  $\frac{1}{3}$  sono femmine. Si sa inoltre che il 35% degli iscritti ha scelto di frequentare il corso di russo. Prendendo a caso un iscritto a questo sito, qual è la probabilità che sia una studentessa che NON studia russo?
- A**  $\frac{13}{60}$
  - B**  $\frac{13}{20}$
  - C**  $\frac{7}{60}$

FC0051

---

52 FC0052  
Il consorzio Belcedro è composto da 2.000 frutticoltori che producono 600.000 litri di succo di cedro in 5 anni. Supponendo che la produttività dei frutticoltori resti costante, quale sarebbe la produzione annua se questi fossero 1.600?  
**A** 96.000  
**B** 120.000  
**C** 68.000

---

53 FC0053  
Nino investe 60.000 euro in un fondo che garantisce un rendimento annuo del 40% per 2 anni. A quanto ammonta l'incremento di valore registrato dalla sua partecipazione solamente nel primo anno?  
**A** 24.000 euro  
**B** 33.600 euro  
**C** A un importo identico a quello del secondo anno

---

54 FC0054  
Se un escursionista percorre 15 km in 180 minuti, la sua velocità media sarà:  
**A** 5 km/h  
**B** 12 km/h  
**C** 6 km/h

---

55 FC0055  
Si dispone di una bilancia a due piatti con il braccio sinistro che misura la metà del braccio destro. Se nel piatto sinistro vengono posti 4 pesi uguali fra loro, quanti pesi dello stesso tipo devono essere posizionati nel piatto destro affinché la bilancia risulti in equilibrio?  
**A** 2  
**B** 8  
**C** 12

---

56 FC0056  
Se le lancette di un orologio segnano le 15.45 di martedì, tra 40 ore e 15 minuti saranno:  
**A** le 8.00 di giovedì  
**B** le 19.00 di mercoledì  
**C** le 3.00 di venerdì

---

57 FC0057  
Indicare in quale delle seguenti alternative la lettera O è presente un numero maggiore di volte rispetto alla lettera C.  
**A** COCOCOCOCCCCOO  
**B** CCOOCCCCOCCCCOC  
**C** CCCOCCCCOCCCCO

---

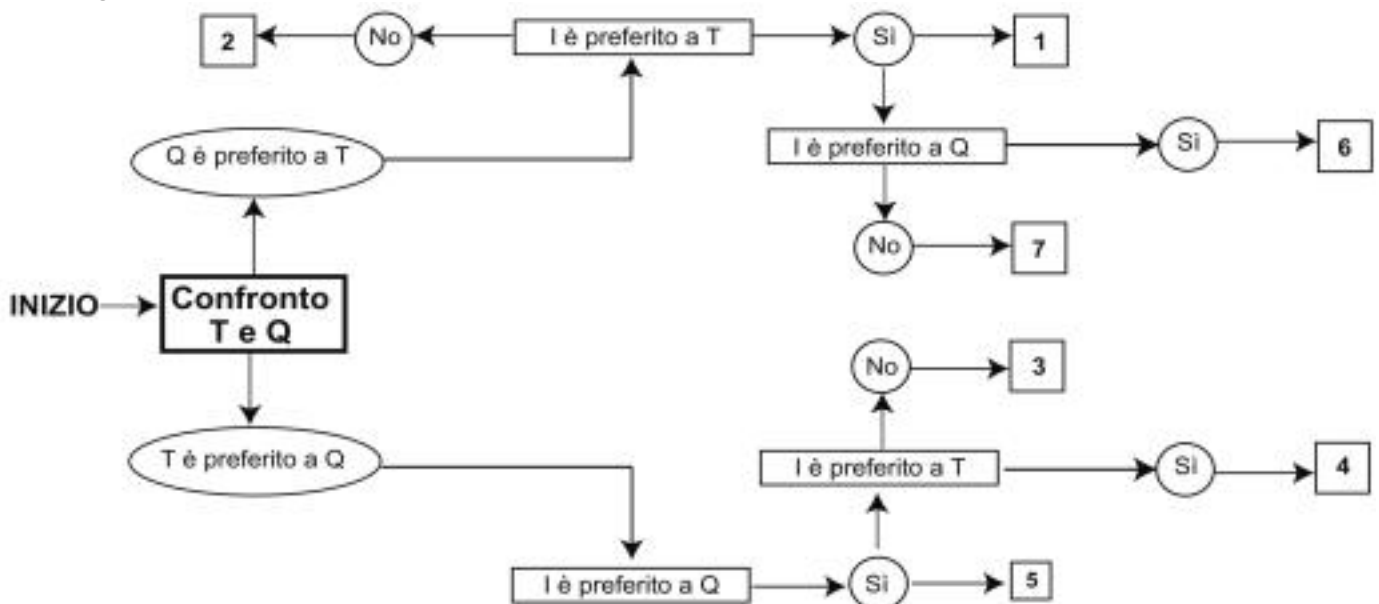
- 58 Un gioco ha le seguenti regole: se un numero è divisibile per 9 vale 7 punti; se è divisibile per 6 vale 5 punti. In base a tali regole, quale dei seguenti numeri vale di più?
- A 81
  - B 30
  - C 60

- 59 Completare correttamente la seguente successione numerica: 8; 15; 29; 57; 113; 225; ?
- A 449
  - B 169
  - C 337

**DIAGRAMMA SZ 14**

Una società sottopone ai propri dipendenti un test per conoscere le loro abitudini. Una domanda verte su quale sia il canale seguito per conoscere le notizie. La classifica avviene valutando a due a due tre mezzi di comunicazione, giudicandone sempre uno come preferito all'altro e mai due come ugualmente preferiti. L'obiettivo quindi è stabilire un ordine di preferenza generale tra i dipendenti.

T = telegiornale, Q = quotidiano, I = Internet.



- 60 Rispondere al seguente quesito facendo riferimento al DIAGRAMMA SZ 14. Indicare l'ordine di preferenza risultante alla casella "4" del diagramma.
- A ITQ
  - B Non è possibile stabilire alcun ordine
  - C IQT

- 61 In base al d.lgs. 34/2018, quale dei seguenti NON è un'attività di gestione forestale?
- A Gli interventi e le opere di carattere intensivo ed estensivo attuati sul territorio, al fine di migliorare l'efficienza funzionale dei bacini idrografici e dei sistemi forestali
  - B Gli interventi di prevenzione degli incendi boschivi
  - C Le opere di sistemazione idraulico-forestale

- 62 **La legge 18/2011 della regione Umbria stabilisce che l'organizzazione e il funzionamento dell'Agenzia sono disciplinati con:**
- A** regolamento adottato dall'Amministratore unico
  - B** legge regionale
  - C** delibera della Giunta regionale

- 63 **Ai sensi dell'articolo 3 del d.P.R. 62/2013, selezionare l'affermazione corretta relativamente al dipendente delle Pubbliche Amministrazioni.**
- A** Il dipendente esercita i propri compiti orientando l'azione amministrativa alla massima economicità, efficienza ed efficacia
  - B** Il dipendente ha la facoltà di esercitare i propri compiti orientando l'azione amministrativa alla massima economicità, efficienza ed efficacia
  - C** Il dipendente esercita i propri compiti orientando l'azione amministrativa alla sola efficienza ed efficacia

- 64 **Non è sbagliato non affermare che il progetto non sia stato approvato. Se la precedente affermazione è vera, allora è vero che il progetto:**
- A** è stato approvato
  - B** non è stato approvato
  - C** non può che non essere stato approvato

- 65 **Uno zaino vuoto pesa 250 g. Se al suo interno vengono inseriti 4 libri del peso di 700 g ciascuno, quale sarà il peso lordo dello zaino?**
- A** 3.050 g
  - B** 1.700 g
  - C** 2.800 g

